



PVP 180 euros

Activitat 4

COSES A SOBRE

Necessiteu una cinta mètrica i un regle mil·limetrat. En el quadre hi ha una llista de diversos objectes que sovint portem a sobre. Podeu ampliar-la. En cada cas avalueu a ull la seva amplada màxima i després amideu exactament quant fa. Quin valor econòmic tenen?

Objecte	Mida màxima a ull	Mida màxima real	Valor (euros)
Ulleres			
Anell			
Cinturó			
Xapa			
Cartera			
Esfera del rellotge			
Corbata			

"LES MIDES DEL TEU COS
GUIARAN EL CONSUM PERSONAL"

Aprèn les teves mides i talles de tot... No t'enganyis!
Abans de les modes mira el que et convé.

Matemàtica personal

El primer repte d'un consumidor és, sens dubte, conèixer el propi cos, que externament és motiu d'una constant renovació i/o rehabilitació consumista. Deixant de banda la fracassada proposta inicial d'Adam i Eva d'anar sense res i l'efimera solució vegetal que ni tan sols tingué èxit en el paradís terrenal, les persones han anat desenvolupant al llarg de la història un ampli espectre de possibles presentacions personals estretament lligades al moment cultural.

Hi ha parts del cos a tapar, d'altres a ser ensenyades, d'altres a ser transformades, d'altres a ser canviades...

De vegades les motivacions són estètiques, religioses o culturals i en altres casos hi ha unes respostes lligades al fred, a la calor, al caminar, la higiene, etc. Així, entre unes necessitats ineludibles i unes convencions gratuïtes, les persones esdevenen consumidores de roba, calçat, ulleres, joies, perfums, cosmètics... i es crea un important sector dedicat a satisfer aquests requeriments. En aquest procés productiu apareix imprescindible i inefable la matemàtica inclosa en talles numerades i mides determinants, amb mesures de tot tipus ordenant les ofertes.

Activitat 1

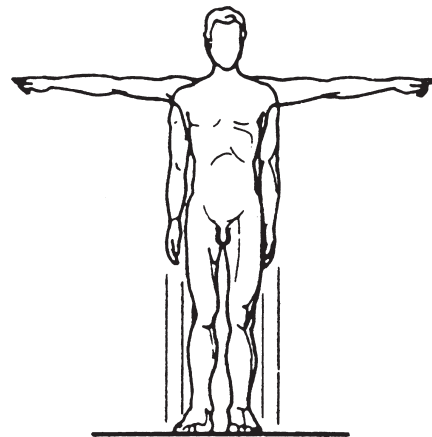
LES TALLEES

Calculeu les mides de les vostres peces de vestir i calçat si en sabeu les talles.

Peça	Talla	Mesura corresponent
Pantalons		
Faldilles		
Brusa		
Mitjons		
Mitges		
Sabates		

Indiqueu en el dibuix a quina part del cos correspon cada mida.

- 182 cm
- 113 cm
- 222 cm
- 170 cm
- 52 cm
- 30 cm
- 32 cm
- 20 cm



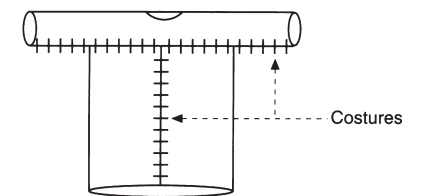
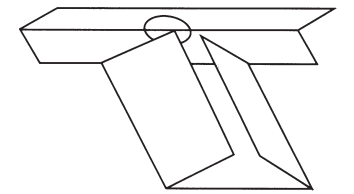
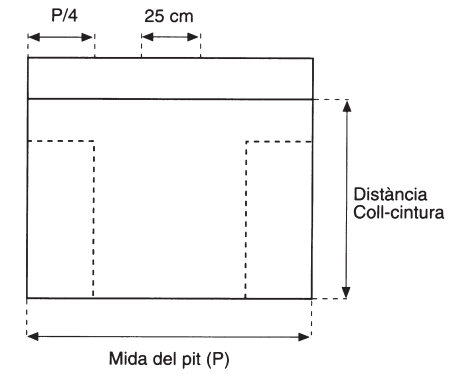
Activitat 2

SUPERFÍCIES I ROBES

Necessiteu uns pantalons, una camisa i una cinta mètrica. Se us convida a descobrir quanta roba hi ha. Heu de pendre mides i calcular superfícies. Aproveiteu la simetria i la possibilitat de mesurar a trossos.

Peça	Superfície (cm ²)	Superfície (cm ²)
Pantalons		
Camisa		

Si es tallessin dues peces i es cosissin els trossos podrieu fer unes estranyes estovalles quadrades. Quina mida tindria el costat d'aquest quadrat?



Activitat 3

FEU UN VESTIT

Preneu les mides necessàries per fer-vos una túnica sense mànigues però del coll als peus. Quanta roba necessaríeu?

Roba:	m ²
-------	----------------

Calculeu, a part, la roba necessària per a posar-hi les dues mànigues.

Mànigues:	m ²
-----------	----------------

Quin tant per cent representen les mànigues respecte de la túnica?

%:
